

仁濟醫院蔡衍濤小學



數學科

單元四 米

校本課程 課堂工作紙

二年級 上學期

姓名：劉衍心 (9)

班別：2B

仁濟醫院蔡衍濤小學
二零二二至二零二三年度上學期
數學科 二年級課堂工作紙(一)

姓名：_____ () 班別：二年級__班 日期：_____

第 10 課 米的認識(一)

利用厘米尺量度以下物件。

1. 洗手盆牆櫃：



量度結果 約 260 厘米。

2. 簿櫃(中文至常識)：



量度結果 約 230 厘米。

3. 白板：




量度結果 約 540 厘米。

4. 一個儲物櫃：



量度結果 約 200 厘米。



姓名：_____ () 班別：二年級____班 日期：_____

第 10 課 米的認識(一)

利用自製米尺量度以下物件。

1. 洗手盆牆櫃：



先估後量	約 <u>3</u> 個 1 米。
量度結果	<u>3</u> 個 1 米 (多些 / 少些); 即 <u>3</u> 米 (多些 / 少些); 即 <u>3</u> 個 100 厘米 (多些 / 少些); 即 <u>300</u> 厘米 (多些 / 少些)。

2. 簿櫃(中文至常識)：



先估後量	約 <u>5</u> 個 1 米。
量度結果	<u>2</u> 個 1 米 (多些 / 少些); 即 <u>2</u> 米 (多些 / 少些); 即 <u>2</u> 個 100 厘米 (多些 / 少些); 即 <u>200</u> 厘米 (多些 / 少些)。

3. 白板：



先估後量	約 <u>3</u> 個 1 米。
量度結果	<u>5</u> 個 1 米 (多些 / 少些); 即 <u>5</u> 米 (多些 / 少些); 即 <u>5</u> 個 100 厘米 (多些 / 少些); 即 <u>500</u> 厘米 (多些 / 少些)。



4. 一個儲物櫃：

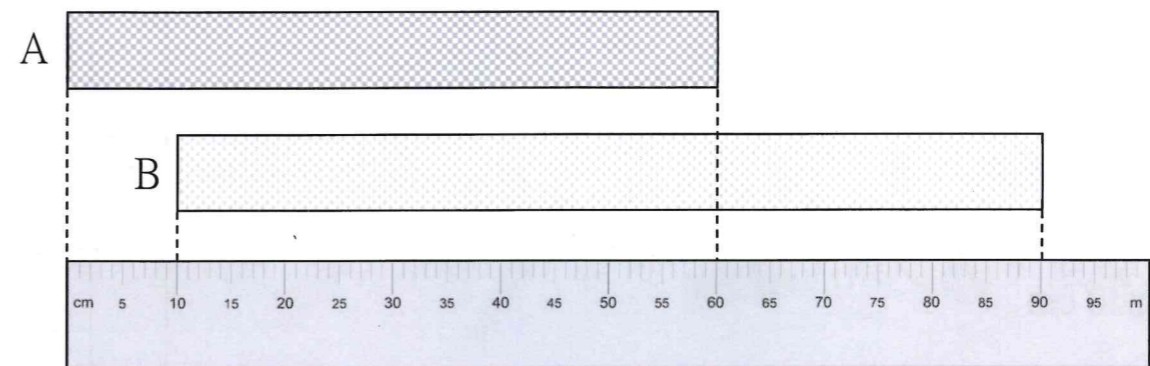


先估後量	約 <u>2</u> 個 1 米。
量度結果	<u>2</u> 個 1 米 (多些 / 少些); 即 <u>2</u> 米 (多些 / 少些); 即 <u>2</u> 個 100 厘米 (多些 / 少些); 即 <u>200</u> 厘米 (多些 / 少些)。

姓名：_____ () 班別：二年級____班 日期：13-12-2022

第 10 課 米的認識(一)

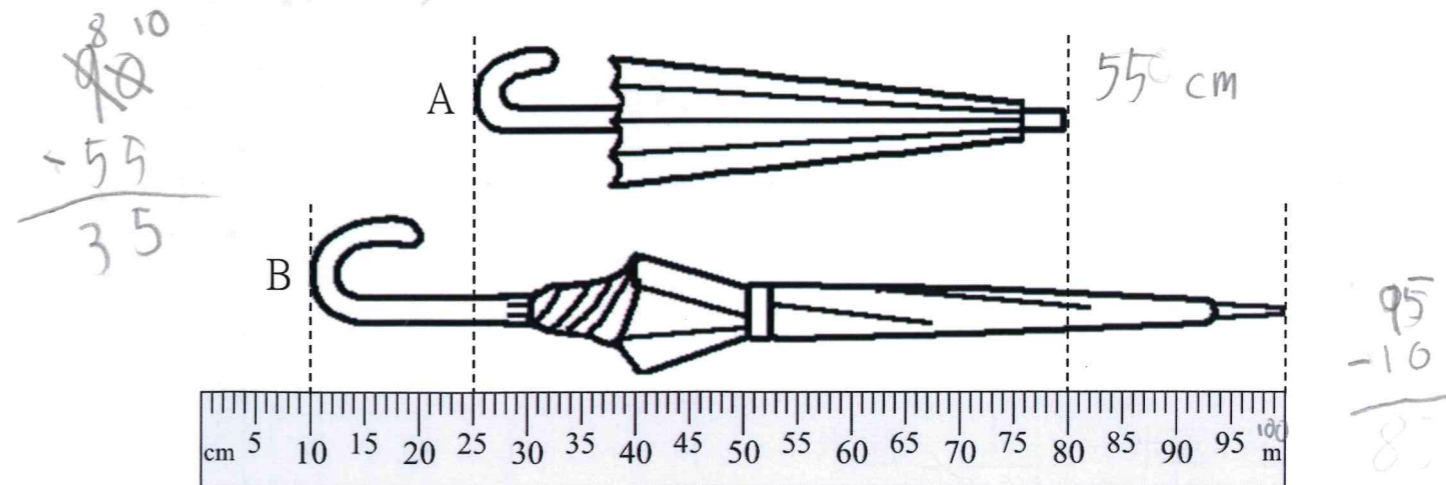
子言用米尺來量度以下兩條絲帶的長度。



1. 絲帶 A 長 60 厘米。
2. 絲帶 B 長 80 厘米。
3. 絲帶 A 比絲帶 B (長 / 短) 20 厘米。

$$\begin{array}{r} 100 \\ - 80 \\ \hline 20 \end{array}$$

子晴用米尺來量度以下兩把雨傘的長度。



4. 雨傘 B 比雨傘 A (長 / 短) 35 厘米。

$$\begin{array}{r} 80 \\ - 45 \\ \hline 35 \end{array}$$

$$\begin{array}{r} 95 \\ - 10 \\ \hline 85 \end{array}$$



姓名：_____ () 班別：二年級____班 日期：_____

第 10 課 米的認識(一)

利用直式，回答以下各題。

1. 2 米 64 厘米 = 200 厘米 + 64 厘米 = <u>264</u> 厘米	<table border="1"> <tr><td>米</td><td></td><td>厘米</td></tr> <tr><td>2</td><td>0</td><td>0</td></tr> <tr><td>+</td><td></td><td>64</td></tr> <tr><td>2</td><td>6</td><td>4</td></tr> </table>	米		厘米	2	0	0	+		64	2	6	4
米		厘米											
2	0	0											
+		64											
2	6	4											
2. 7 m 40 cm = <u>700</u> cm + <u>40</u> cm = <u>740</u> cm	<table border="1"> <tr><td>m</td><td></td><td>cm</td></tr> <tr><td>7</td><td>0</td><td>0</td></tr> <tr><td>+</td><td></td><td>40</td></tr> <tr><td>7</td><td>4</td><td>0</td></tr> </table>	m		cm	7	0	0	+		40	7	4	0
m		cm											
7	0	0											
+		40											
7	4	0											
3. 8 米 9 厘米 = <u>800</u> 厘米 + <u>9</u> 厘米 = <u>809</u> 厘米	<table border="1"> <tr><td>米</td><td></td><td>厘米</td></tr> <tr><td>8</td><td>0</td><td>0</td></tr> <tr><td>+</td><td></td><td>9</td></tr> <tr><td>8</td><td>0</td><td>9</td></tr> </table>	米		厘米	8	0	0	+		9	8	0	9
米		厘米											
8	0	0											
+		9											
8	0	9											
4. 5 m 8 cm = <u>500</u> cm + <u>8</u> cm = <u>508</u> cm	<table border="1"> <tr><td>m</td><td></td><td>cm</td></tr> <tr><td>5</td><td>0</td><td>0</td></tr> <tr><td>+</td><td></td><td>8</td></tr> <tr><td>5</td><td>0</td><td>8</td></tr> </table>	m		cm	5	0	0	+		8	5	0	8
m		cm											
5	0	0											
+		8											
5	0	8											
5. 4 米 1 厘米 = <u>400</u> 厘米 + <u>1</u> 厘米 = <u>401</u> 厘米	<table border="1"> <tr><td>米</td><td></td><td>厘米</td></tr> <tr><td>4</td><td>0</td><td>0</td></tr> <tr><td>+</td><td></td><td>1</td></tr> <tr><td>4</td><td>0</td><td>1</td></tr> </table>	米		厘米	4	0	0	+		1	4	0	1
米		厘米											
4	0	0											
+		1											
4	0	1											


姓名：_____ () 班別：二年級____班 日期：_____

第 11 課 米的認識(二)

2 人一組，請每組學生量度以下指定的實物，先估計物件的長度，然後圈出合適的工具量度，並把量度的結果記錄在橫線上。

A 同學：估計、量度。 B 同學：數數、記錄。

1. 我會選用 (厘米尺  / 米尺  / 軟尺  / 捲尺  / 滾輪 )
來量度大銀幕的長度。

量度物件	估計	量度
大銀幕的長度 	長約 <u>3</u> 米	長 <u>1</u> 米 <u>70</u> 厘米

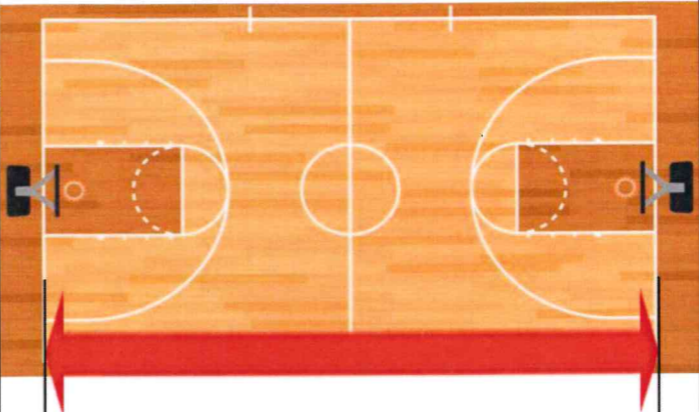
2. 我會選用 (厘米尺 / 米尺 / 軟尺 / 捲尺 / 滾輪) 來量度獎勵卡的長度。

量度物件	估計	量度
獎勵卡的長度  <div style="border: 1px solid black; padding: 5px; width: fit-content; margin: 0 auto;">? 厘米</div>	長約 <u>7</u> 厘米	長 <u>9</u> 厘米

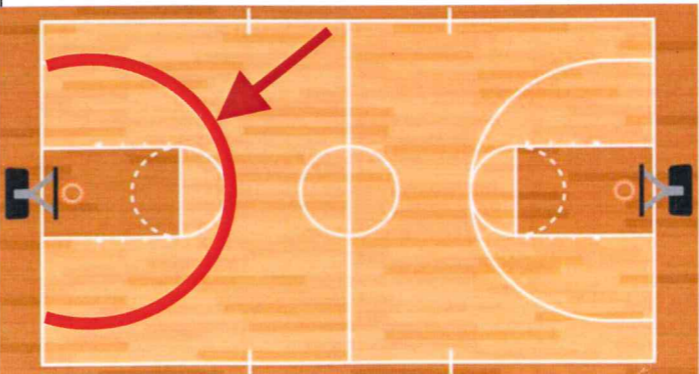
3. 我會選用 (厘米尺 / 米尺 / 軟尺 / 捲尺 / 滾輪) 來量度瓶身外圍的長度。

量度物件	估計	量度
瓶身外圍的長度  <div style="border: 1px solid black; padding: 5px; width: fit-content; margin: 0 auto;">? 厘米</div>	長約 <u>9</u> 厘米	長 <u>20</u> 厘米

4. 我會選用 (厘米尺 / 米尺 / 軟尺 / 捲尺 / 滾輪) 來量度籃球場的長度。

量度物件	估計	量度
籃球場的長度  <div style="border: 1px solid black; padding: 5px; width: fit-content; margin: 0 auto;">? 米</div>	長約 <u>23</u> 米	長 <u>23</u> 米 <u>55</u> 厘米

5. 我會選用 (厘米尺 / 米尺 / 軟尺 / 捲尺 / 滾輪) 來量度籃球場三分線的長度。

量度物件	估計	量度
籃球場三分線的長度  <div style="border: 1px solid black; padding: 5px; width: fit-content; margin: 0 auto;">? 米</div>	長約 <u>24</u> 米	長 <u>24</u> 米 <u>35</u> 厘米